

受検番号

平 2 3

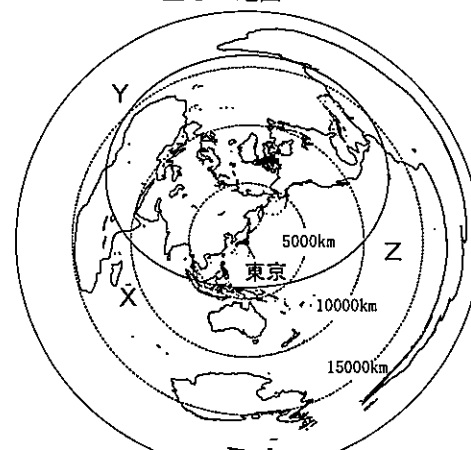
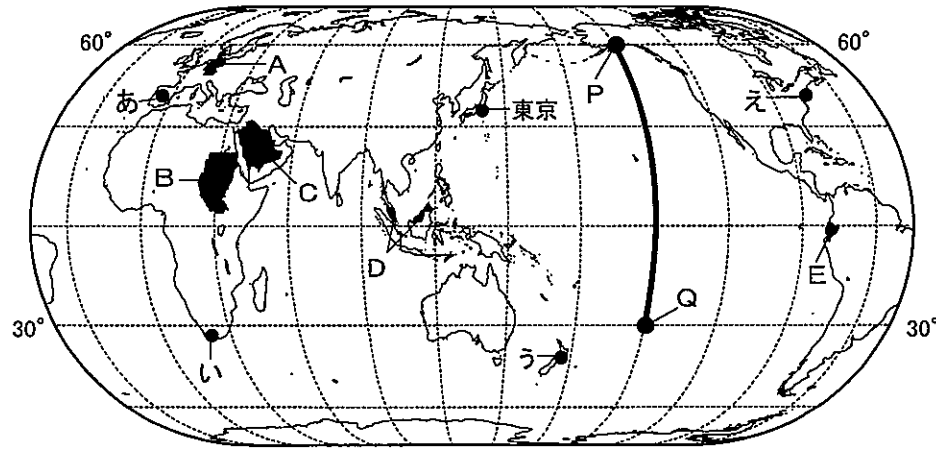
社会

- 1 答えは、すべて、解答用紙の決められた欄に書き入れなさい。
- 注意 2 与えられたいくつかの事項のうちから答えを選ぶ場合は、記号で書きなさい。
- 3 問題用紙は2枚あります。

1 次の略地図1～3、資料1～4を見て、後の1～3の問いに答えなさい。

略地図1 面積が正しい地図

略地図2 東京からの距離と方位が正しい地図



資料1

陸の面積 1億4889万km ² 29.2%	海の面積 3億6106万km ² 70.8%	
三大洋		その他 9.9%
太平洋 45.9%	() 23.9%	

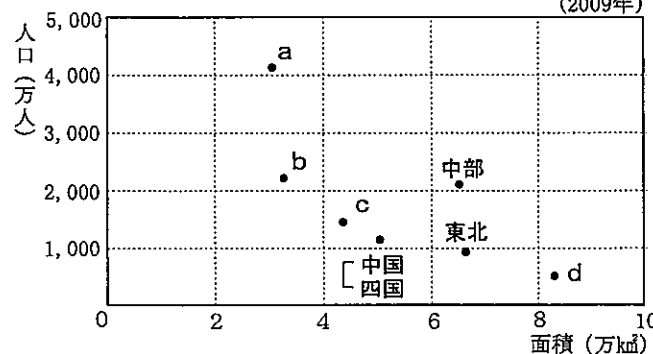
【理科年表 平成23年】などより作成

資料2

国	人口 (百万人)	貿易額 (輸出) (億ドル)	貿易額 (輸入) (億ドル)	1人あたりの 国民総所得 (GNI) (ドル)	実質経済 成長率 (%)
A	82	13,238	10,560	40,959	2.5
B	40	89	85	1,355	10.2
C	25	2,333	902	15,850	2.0
D	27	1,760	1,468	6,881	6.2
日本	128	7,097	6,198	35,533	1.8

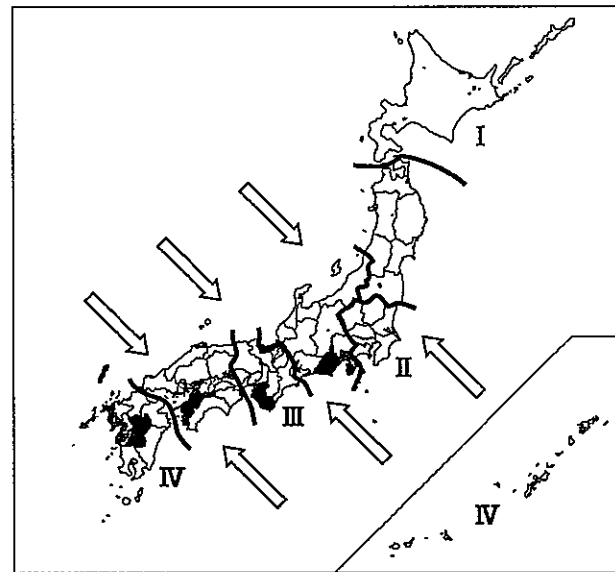
※実質経済成長率：物価の変動の影響をのぞいた経済成長率
【世界国勢図会2010/11】などより作成

資料3 各地方の面積と人口

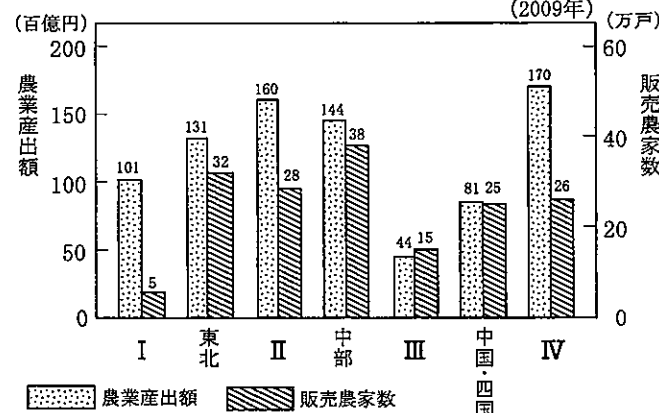


【データでみる県勢2011】より作成

略地図3



資料4



※販売農家：経営耕地面積が30アール以上または農産物販売額が50万円以上ある農家
【農林水産省の資料より作成】

1 略地図1、2、資料1を見て、次の(1)～(4)の問いに答えなさい。

- (1) 地球上での経線の全周は、赤道の全周とほぼ同じで約4万kmである。略地図1の経線上に太線で示したP点からQ点までの実際の距離は約何kmか。次のア～エから1つ選びなさい。
ア 約5千km イ 約1万km ウ 約1万5千km エ 約2万km
- (2) 日本が3月9日午前11時のとき、略地図1のEの国の首都は3月8日午後9時である。Eの国の首都の標準時を決めている子午線の経度を書きなさい。
- (3) 略地図1のあ～えは、4つの都市の位置を示している。略地図2を参考にして、東京からの距離が最も遠い都市をあ～えから1つ選びなさい。
- (4) 資料1は、地球上の陸と海の面積およびその割合を示しており、略地図2のX、Y、Zは、三大洋のいずれかを示している。資料1の()にあてはまる大洋名を書き、また、その大洋はX、Y、Zのうちどれか。1つ選びなさい。

2 略地図1、資料2を見て、次の(1)、(2)の問いに答えなさい。

- (1) 略地図1のA～Dの国のうち、国民の大多数がイスラム教を信仰し、近年、日本にとって最大の原油の輸入先である国について述べているものを、次のア～エから1つ選びなさい。
ア APECに加盟している。 イ 国際連合の本部が置かれている。
ウ 国土のすべてが乾燥帯に属している。 エ 通貨としてユーロを発行している。
- (2) 資料2は、略地図1のA～Dの国と日本の、人口、貿易額(輸出・輸入)、1人あたりの国民総所得、実質経済成長率をそれぞれ示している。資料2から読みとれることを、次のア～エから1つ選びなさい。
ア 1人あたりの国民総所得が多いほど、実質経済成長率は高い。
イ 実質経済成長率が高いほど、人口は多い。
ウ 人口が多いほど、貿易黒字の額は多い。
エ 輸出と輸入の貿易額の総額が多いほど、1人あたりの国民総所得は多い。

3 略地図3、資料3、4を見て、次の(1)～(4)の問いに答えなさい。ただし、略地図3、資料4のI～IVは、それぞれ同じ地方を示している。

- (1) 略地図3の ⇄ は、おもに夏に海洋から大陸へ向かって吹く風と、おもに冬に大陸から海洋へ向かって吹く風を示している。この風は、太平洋側と日本海側の気候に大きなちがいがみられる原因の1つとなっている。この風の名称を書きなさい。
- (2) 略地図3の ■ は、ある農産物の2008年における生産量が多かった5つの都道府県を示している。その農産物は何か。次のア～エから1つ選びなさい。
ア みかん イ りんご ウ 米 エ 茶
- (3) 資料3は、各地方の面積と人口を示している。略地図3のIIIの地方にあてはまるものはどれか。資料3のa～dから1つ選びなさい。
- (4) 資料4は、農業産出額と販売農家数を地方別に示したものである。資料4から、Iの地方の農業は、他の地方と比べてときどきどのような特徴が見られるか。書きなさい。

2

次の表、資料1、2、写真、略地図を見て、後の1～3の問いに答えなさい。

A	B	C	D
法隆寺	慈照寺の東求堂同仁齋	姫路城	大阪紡績会社
法隆寺は、現存する世界最古の木造建築とされ、(①)時代の様式を今に伝えている。	足利義政は、東山に②東求堂同仁齋という書齋をつくって、風雅な生活を送った。	関ヶ原の戦いの後、(③)大名の池田氏が姫路城主となり、姫路城の大改修を行った。	1882年につくられた大阪紡績会社は、工場で綿花を原料とした商品を大量に生産した。

受検番号

平 2 3

社 会

1 A～Cについて、次の(1)～(6)の問いに答えなさい。

(1) 表の①, ③にあてはまる正しい組み合わせを、次のア～エから1つ選びなさい。

- ア ①-飛鳥, ③-親藩 イ ①-奈良, ③-親藩
- ウ ①-奈良, ③-外様 エ ①-飛鳥, ③-外様

(2) Aが最初につくられたところと同じころのできごとを、次のア～エから1つ選びなさい。

- ア 農村では、惣とよばれる自治的な組織がつけられた。
- イ 能力や手柄に応じて豪族たちに十二の冠位が与えられた。
- ウ 大宝律令が定められ、律令に基づいて政治が行われた。
- エ 強大な権力をもつ王があらわれ、大型の古墳がつけられた。

(3) Bについて、下線部②には、たたみをしきつめて、ちがい棚や床の間を設けた建築様式が見られ、その後の和風住宅の一つの要素となっている。この建築様式を何というか。書きなさい。

(4) Bがつくられた室町時代の文化の特色を、次のア～エから1つ選びなさい。

- ア 仏教と唐の文化の影響を強く受けた文化
- イ 武士による素朴で力強い文化
- ウ 武家の文化と公家の文化が融合した文化
- エ 上方を中心とした豊かな町人文化

(5) Cで、高くそびえ、支配者の権威をあらわした建築物を何というか。書きなさい。

(6) 資料1は、Cの大改修のあと、同じ時代に定められたきまりである。資料1が定められた理由を書きなさい。

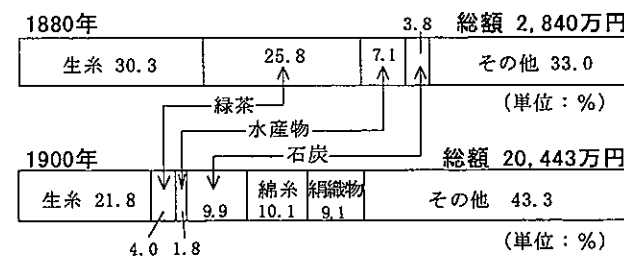
資料1

一 諸国の城は、たとえ修理でも必ず幕府へ報告せよ。ましてや新しい城を築くことは厳重に禁止する。

一 大名は国元と江戸を参勤交代するように定める。毎年四月中に江戸へ参勤せよ。


(一部要約)

資料2 輸出の変化

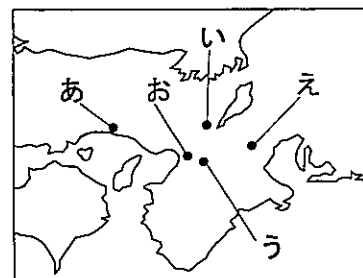


〔「日本貿易精覽」より作成〕

写真



略地図



例 (時代) (場所)
D - 近代 - お

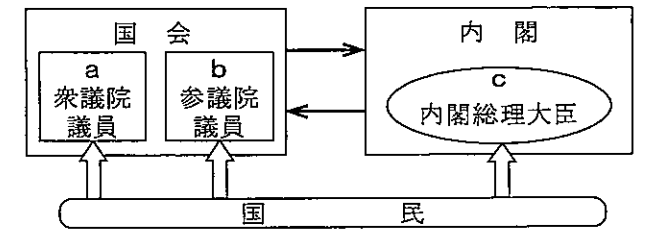
3

公民の授業で調べ学習を行った。A～D班がまとめた資料1～4を見て、後の1～4の問いに答えなさい。

1 A班は、国と地方の政治のしくみについて調べた。資料1を見て、次の(1), (2)の問いに答えなさい。

資料1

国会と内閣の関係



(1) 資料1の ⇔ は、国民または住民の意思を反映させるためのしくみを示している。a～eのうち、国民や住民によって、直接、選挙により選ばれ、法で定められた任期が最も長いものを1つ選びなさい。

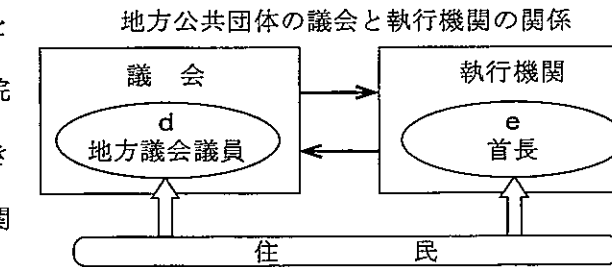
(2) 資料1の ⇔ は、国会と内閣の関係や地方公共団体の議会と執行機関の関係を示している。その説明として正しいものを、次のア～エから1つ選びなさい。

ア 国会は、内閣総理大臣と国務大臣を指名することができる。

イ 内閣不信任決議が可決された場合、内閣は衆議院を解散することができる。

ウ 地方議会は、首長の不信任決議を行うことはできない。

エ 首長は、地方議会における条例や予算の議決に関して、再議を行うことはできない。



2 B班は、裁判のしくみについて調べた。資料2を見て、次の(1), (2)の問いに答えなさい。

資料2

貸したお金を返してくれないなど私たちの日常生活に起こる法律上の争いを解決する裁判で、訴えの提起により始まる。裁判官は、法廷で、訴えた人(原告)と訴えられた人(被告)双方の言い分を確かめ、証拠を調べたうえで、法律に照らし判決を言い渡す。

(1) 資料2で説明されている裁判の種類を、漢字4字で書きなさい。

(2) 日本では、第一審の裁判所の判決に不服がある場合、第二審の裁判所に控訴し、さらに上告することができる三審制を採用している。その理由を書きなさい。

3 C班は、貿易について調べた。資料3を見て、次の(1), (2)の問いに答えなさい。

資料3

日本で製造した自動車を、1台200万円アメリカに輸出したとする。1ドル=100円と1ドル=80円のときを比べると、1ドル=80円のとの方が、ドルに換算して1台あたり(①)ドル高くなる。為替相場における円の価値が1ドル=100円から1ドル=80円に上がるような状況を、ドルに対して(②)になったという。

(1) 資料3は、為替相場について説明したものである。①にはあてはまる数字を、②にはあてはまる語をそれぞれ書きなさい。

(2) 国際連合の専門機関で、為替相場の安定を図ることを目的とする「国際通貨基金」の略称を、次のア～エから1つ選びなさい。

ア OECD イ IMF

ウ ILO エ UNCTAD

4 D班は、飲食店の壁に貼られていたポスターに興味をもち、滋賀県の「地産地消」を推進する運動について調べた。資料4は、その運動のロゴマークである。地域で生産されたものを地域で消費するという「地産地消」には、どのような効果が期待されていると考えられるか。下の2つの語句を使って説明しなさい。

資料4

自然がおいしい、心がうれしい。



やっぱり地のもんがええなあ

輸送距離 地域の経済

※印の欄には何も記入しないこと。

1

※

1	(1)			(2)			
	(3)		(4)	(大洋名)	(記号)		
2	(1)				(2)		
3	(1)				(2)		
	(3)						
	(4)						

2

※

1	(1)			(2)			
	(3)			(4)			
	(5)						
	(6)						
2	(1)	→ →					
	(2)						
3		(時代)	(場所)		(時代)	(場所)	
	A	-	-	B	-	-	

3

※

1	(1)			(2)			
2	(1)						
	(2)						
3	(1)	①		②		(2)	
4							

※